



Durpskwis!

Oeffelt

Spelinformatie

Bedankt voor jullie deelname aan de Durpskwis Oeffelt. **Lees onderstaande informatie eerst door voordat je begint.**

De antwoorden van de vragen dienen te worden ingevuld in de kaders van het vragenboek. Wij kennen geen punten toe aan niet of slecht leesbare antwoorden!

Alleen de teams die hun vragenboek tijdig en op de juiste manier inleveren worden meegenomen in de bepaling van de uitslag.

De voorwaarden hiervoor zijn:

- Het vragenboek samen met de USB-stick dienen tussen **23.00 en 23.30 uur** ingeleverd te worden in café Piepkens. Na 23.30 uur kunnen er geen vragenboeken meer ingeleverd worden.
- Leg alle bladzijden van het vragenboek **op de juiste volgorde**, zoals u het ook ontvangen heeft.

Indien er niet aan bovenstaande voorwaarden wordt voldaan, wordt uw team gediskwalificeerd.

In het vragenboek zijn 10 categorieën opgenomen, te weten:

- 1) Algemeen
- 2) Geschiedenis
- 3) Breinbrekers
- 4) (Oud) Oeffelt
- 5) Opdrachten
- 6) Sport
- 7) Aardrijkskunde
- 8) Muziek
- 9) Jeugd
- 10) Sponsorvraag

De puntentelling gaat als volgt. Voor elk goed antwoord krijg je 2 punten. Wordt er bij een vraag om 3 antwoorden gevraagd (bijv. a, b en c of 1, 2 en 3) dan krijg je dus $3 * 2 = 6$ punten voor deze vraag. Daarnaast krijg je, alleen bij een vraag waar meerdere antwoorden gegeven moeten worden, 2 extra punten indien je alle antwoorden op de vraag goed hebt.

Een uitzondering hierop vormt de categorie Breinbrekers waar je 4 punten per goed antwoord krijgt. Bij de opdrachten staat aangegeven hoeveel punten je met de desbetreffende opdracht kunt verdienen.



Er zijn ook opdrachten die buiten plaatsvinden. Wij verzoeken u om de geldende verkeersregels in acht te nemen voor uw eigen veiligheid en de veiligheid van anderen.

In uw enveloppe vindt u een USB stick. De USB stick heeft u nodig bij een aantal vragen. Wij vragen wij u om de USB stick, voorzien van een sticker met de naam van het team, tegelijk met antwoordenboekje in te leveren.

In geval van nood of calamiteiten kunt u de organisatie bereiken via telefoonnummer 06-51578448 of 06-53408821.

Wij als organisatiecommissie van de Stichting Durpskwis Oeffelt wensen alle teams heel veel plezier toe tijdens deze derde editie van 'de Durpskwis' !!



Organisatiecommissie de Durpskwis.

Van links naar rechts: Hans Kersten, Bart Coenen, Kars Jacobs, Gert Jan Coenen, Jan van Gelder, Gerard Keijzers, Mark Dinnissen en Eric Jilissen.



1. Algemeen

Vraag 1.1

De kruisweg bestaat uit 14 kruiswegstaties. Onderstaande foto is genomen in de kerk van Oeffelt. De hoeveelste kruiswegstatie wordt afgebeeld op dit schilderij?



Antwoord:

De vijfde

Vraag 1.2

Wat is de geografische overeenkomst tussen Baku en Schiphol?

Antwoord:

Beide liggen onder zeeniveau

Vraag 1.3

Noem de eerste 8 planeten op volgorde vanaf de zon.





Antwoord:

Mercurius, Venus, Aarde, Mars, Jupiter, Saturnus, Uranus, Neptunus



Vraag 1.4 (2 punten per bord als je alle 3 antwoorden goed hebt)

In Nederland hebben we tal van verzorgingsplaatsen. Hieronder zie je de welbekende borden. Langs welke snelweg (bv A73 Nijmegen-Venlo) vind je dit bord, in (bij) welke plaats en benoem herkomst naam/ betekenis naam.

	
<p>Snelweg: A2 Maastricht-Amsterdam</p>	<p>Snelweg: A1 Amsterdam-Oldenzaal</p>
<p>Plaats: Sittard</p>	<p>Plaats: Gooise Meren of Muiden</p>
<p>Herkomst naam: koning Swentibold, een Frankische koning uit de Middeleeuwen (of 9^e eeuw)</p>	<p>Herkomst naam: een oude herberg bij de vlakbijgelegen Hakkelaarsbrug</p>
	
<p>Snelweg: A12 Arnhem-Den Haag</p>	<p>Snelweg: autoweg A/N208</p>
<p>Plaats: Zoetermeer</p>	<p>Plaats: Santpoort Noord of Velsbroek</p>
<p>Herkomst naam: vernoemd naar 'n varkensboerderij in de buurt</p>	<p>Herkomst naam: verwijst naar kunstschilder uit de 15^e eeuw</p>



	
Snelweg: A6 Muiderberg-Joure	Snelweg: A28 Utrecht-Groningen
Plaats: Tollebeek of Emmeloord	Plaats: Nunspeet
Herkomst naam: een verzetsheld uit de WO2	Herkomst naam: vernoemd naar naastgelegen bos van eigenaar Willem van Vloten
	
Snelweg: A2 Amsterdam-Luik	Snelweg: A27 Breda-Almere
Plaats: Eijsden (gem. Eijsden-Margraten)	Plaats: Oosterhout
Herkomst naam: Knuistjes	Herkomst naam: is afgeleid van de restanten van drie kogelvangers die in 1730 in de buurt werden opgeworpen op de Oosterheide, en is een verbastering van de achternaam van Pieter Jacob Calckberne

Vraag 1.5

Wat doe je met 'de looper', om er toch nog nuttig gebruik van te maken, als die te dun wordt?

Antwoord:

Molenstenen, je maakt er een "ligger" van.

Vraag 1.6

Ik rij met 230 Km/h met mijn auto van 2000 kg op de Duitse Autobahn. Het gewicht is gelijk verdeeld over de wielen. Welke technische fouten maak ik als ik 205/55R16H84 banden heb gemonteerd?

Antwoord:

De snelheid is te hoog en het gewicht incl. chauffeur is te hoog voor de banden.



Vraag 1.7

Wat is de overeenkomst tussen Gander en Shanwick ?

Antwoord:

Transatlantische luchtverkeersleiding, air traffic control, ATC

Vraag 1.8

Zoek de iconen op 51.42'18" - 5.56'24". Welk onguur sujet, die graag een biertje uit Munchen drinkt, heeft hier veel mee van doen?

Antwoord:

Een 'hacker' (het bier is Hacker-Pschorr)

Vraag 1.9

Je hebt drie theezakjes meegekregen bij het ophalen van de kwisboeken. Welke drie theesoorten zijn dit?

Antwoord:

Earl Grey, Citroen en Rooibos

Vraag 1.10

Welke wijn stond in 2017 op de 8e plaats van de top 10 gepubliceerd door de "wijn toeschouwer"?

Antwoord:

Wine Spectator: Meyer Cabernet Sauvignon Napa Valley op 8

Vraag 1.11

Hoeveel vierkante meter grond kreeg Limburg vorig jaar van Noord-Brabant erbij?

235 vierkante meter



Vraag 1.12 (2 punten per goed antwoord + 2 bonus)

De organisatie is liefhebber van de Duitse muziek. Daarom zijn wij op zoek naar de naam van de plaats waar deze Duitse Slagers zitten.



A



B



C



D

Antwoord:

A	Schoppingen
B	Leipzig
C	Ahlerstedt
D	Freudenburg



Vraag 1.13

Hoelang duurt het minimaal voordat je een vanaf de aarde uitgestuurd en door de maan gereflecteerd radiosignaal weer op aarde kunt ontvangen?

Antwoord:

2,4 seconden

Vraag 1.14

Wat is het grote oor van Dwingeloo?

Antwoord:

Radiotelescoop

Vraag 1.15

Je wilt, als persoon met de Taak Eigen Veiligheid, gebruik maken van een overpad dat met een waarschuwingsinstallatie voor dienstoverpaden (WIDO) beveiligd is. De lampen branden constant. Wat betekent dit?

- Ik moet wachten met oversteken tot de lampen doven
- Ik moet wachten tot de lampen knipperen
- Ik kan op een veilige manier oversteken



Antwoord:

C

Vraag 1.16

Wat is er bijzonder aan het woord "topprioriteit"?

Antwoord:

Je hoeft alleen de bovenste rij letters van je toetsenbord te gebruiken



Vraag 1.17 (2 punten per goed antwoord + 2 bonus)

Welke automerken en type model zie je op onderstaande foto's?




A



B



C



D



E



F

A	Trabant 601
B	Reliant Robin
C	Fiat Multipla
D	De Lorean DMC
E	Opel Kadett
F	Volkswagen Polo



Vraag 1.18 (2 punten per goed antwoord+ 2 bonus)

De organisatie had honger tijdens het maken van de kwis. Daarvoor belden zij de volgende telefoonnummers. Welke restaurants hebben zij gebeld voor eten te laten bezorgen/ophalen?

Antwoord:

0485514409	Eufraat Gennep
0485362860	Smulhuukske Oeffelt
0485743743	Domino pizza
0485517504	Loong Foong Gennep

Vraag 1.19

Waar kun je last van Calisio hebben terwijl je ongeveer 1950 meter hoog staat?

Antwoord:

Gran Canaria , Pozo de las Nieves Pico/Pozo de las Nieves. hoogste berg)

Vraag 1.20

Met onze neus ruiken we lekkere geuren, zoals parfum of koffie, maar ook gevaar, zoals een brandlucht. Hoe wordt de aandoening genoemd wanneer iemand extreem geuren waarneemt of registreert?

Antwoord:

Hyperosmie

Vraag 1.21

Wat is de gangbare naam voor het door de maan laten reflecteren en weer ontvangen van aardse radiosignalen?

Antwoord:

Moonbounce of EME



Vraag 1.22 (2 punten per goed antwoord + 2 bonus)

Geef het juiste nummer van dit verkeersbord op: Bijvoorbeeld bord voor verboden in te rijden =



A



B



C



D



E



F

A	F05
B	E300
C	D01
D	C01
E	B07
F	J04

Vraag 1.23

Aan welke ziekte leed de onlangs overleden wetenschapper Stephen Hawking?

Antwoord:

ALS



Vraag 1.24 (2 punten per goed antwoord + 2 bonus)

We zoeken plaatsnamen:

Als mijn fietsband onderweg lek gaat dan	Lopik
Ik vertrouw die jonge tandarts nog niet zo. Ik denk dat ik maar weer naar de	Oudega
De babyspullen waren allang verkocht via marktplaats, dus voor 't nakomertje was er geen	Boxmeer
Ik ben 'n echte zoetekouw maar zet die suikerklontjes maar weg, mijn thee hoeft niet	Zoetermeer
Met z'n zessen in 'n mini gaat misschien nog net, maar je kunt er zeker	Vierhuizen/Vijfhuizen/Driebergen
Waarom wil jij die haak recht buigen? Nou, ik hoef zo'n	Krommenie
De spar stond verscholen in de dichte mist, maar de boswachter zag de	Den Helder

Vraag 1.25

Wat beeld onderstaand plaatje uit?

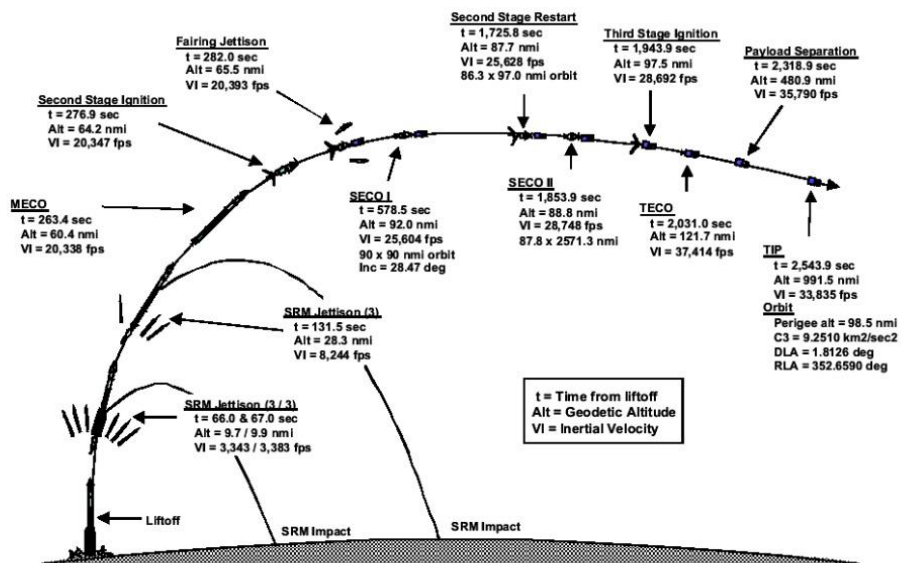


Figure 3-4: MER-A Ascent and Parking Orbit Injection Profile (LP Open, 93-deg launch azimuth)

Antwoord:

Lancering van Mars Rover naar Mars (geen raket, geen satelliet)



Vraag 1.26 (2 punten per goed antwoord+ 2 bonus)

Benoem deze kamerplanten:



A



B



C



D



E



F

Antwoord:

A	Fuchsia
B	Yucca
C	Aloe Vera / Agave
D	Lavendel
E	Varen
F	Cactus

Vraag 1.27 (2 punten per goed antwoord + 2 bonus)

Wat is de naam van deze groente?



A



B



C



D





E



F



G



H

Antwoord:

A	Venkel
B	Tauge
C	Rammenas
D	Radijs
E	Peultjes
F	Knolselderij
G	Aardappel
H	Wortel



Vraag 1.28

Wat voor een dier zat er op 10 mei 2018 vast in het hekwerk van de Haven aan de Katsestraat?

Antwoord:

Ree

Vraag 1.29 (2 punten per goed antwoord + 2 bonus)

Waar of niet waar? Omcirkel het juiste antwoord.

Antwoord:

Het record hamburger eten (3 minuten) staat op meer dan 15 stuks	waar / niet waar
De omtrek van de vrouw met de grootste natuurlijke borsten (meetlint om haar lichaam ter hoogte van haar tepels) is groter dan 1 meter en 75 cm?	waar / niet waar
Met veel kauwgom kun je een mooie bel blazen. De grootste kauwgombel ooit geblazen zonder handen is groter dan 55 centimeter diameter	waar / niet waar
De snelste schildpad ooit heet Carl	waar / niet waar
De mens met de meeste tanden ooit had er meer dan 36	waar / niet waar
De meest harde boer ooit was over de 100 db (norm kettingzaag)	waar / niet waar

Vraag 1.30 (niet meegenomen in de puntentelling)

Welk woord hoort in onderstaande reeksen niet thuis? Streep dit woord door.

- | | | |
|---|---|---|
| A. Elvis Presley
Freddy Mercury
Mick Jagger
John Lennon | C. Bruine Beren
Masturberen
Ijsberen | E. DKZ
D6B
180Z
SR20DE |
| B. Kikker
Pad
Salamander
Hagedis | D. Bahamontes
Thevenet
Poulidor
Pingeon | F. Bruine bonen
Soja bonen
Dildo's |



Vraag 1.31 (2 punten per goed antwoord + 2 bonus)

Wat zijn de merknamen van deze woonaccessoires?



A



B



C



D



E



F

Antwoord:

A	Ekerö
B	Gubbröra
C	Lappljung ruta
D	Södersvik
E	Utrusta
F	Lack

Vraag 1.32

Welk nummer werd gespeeld tijdens het uitreiken van het kwisboek?

Antwoord:

Listen to the music



2. Geschiedenis

Vraag 2.1

Welke 3 architecturen zijn er verwerkt in de Taj Mahal?

Antwoord:

De islamitische, hindoeïstische en de Perzische architectuur.

Vraag 2.2

Franz Schmidt was in de 16^e eeuw een beul. Dit was hij tot aan zijn pensioen. Welk beroep oefende hij hierna nog uit?

Antwoord:

Arts

Vraag 2.3

Hieronder zien we het kroningsschilderij uit 1807 van Napoleon Bonaparte. Welke personen uit zijn familie waren echter afwezig, die wel afgebeeld staan?



Antwoord:

Napoleons broer Joseph & Napoleons moeder Letizia Bonaparte



Vraag 2.4

Wie is waarschijnlijk de "echte" Robinson Crusoe?

Antwoord:

Alexander Selkirk

Vraag 2.5

Op onderstaande tekening zien we een vrouw die nauw in verband word gebracht met een beroemd schilderij. Welk schilderij zoeken we hierbij ?



Antwoord:

Mona Lisa

Vraag 2.6

Welke vorst heeft het langst geregeerd, in voltallige jaren?

Antwoord:

Sobhuza van Swaziland, 82 jaar

Vraag 2.7

Jack the Ripper is de naam die gegeven is aan een seriemoordenaar in de tweede helft van 1888 in Londen prostituties verminkte en vermoordde. In welke wijk gebeurde dit?

Antwoord:

Whitechapel of East End



3. Breïnbreakers

Vraag 3.1

Er liggen zes stoeptegels op een rij. Onder een van deze tegels zit een pissebed. Je weet niet onder welke, maar je weet wel dat het beestje elke nacht willekeurig één plek opschuift naar links of rechts. Elke dag mag je onder één tegel kijken. Als je de tegels optimaal kiest, hoeveel dagen heb je dan maximaal nodig om aan te wijzen onder welke tegel de pissebed zit?

Antwoord: a. 6 dagen b. 8 dagen c. 10 dagen

Antwoord:

A

Vraag 3.2

Wat heeft een oog maar kan niet zien?

Antwoord:

Een naald of een orkaan, cycloon, hurricane, tyfoon, dobbelsteen

Vraag 3.3

Joop komt een leeuw en een eenhoorn tegen. De leeuw liegt iedere maandag, dinsdag en woensdag, de overige dagen spreekt hij de waarheid. De eenhoorn liegt op iedere donderdag, vrijdag en zaterdag. De overige dagen van de week spreekt de eenhoorn de waarheid.

De leeuw zegt: Gisteren loog ik.

De eenhoorn zegt: Ik ook.

Op welke dag van de week zeiden zij dat tegen elkaar?

Antwoord:

Op donderdag en ze hadden het over de woensdag



Vraag 3.4

Iemand heeft een 3 liter blik en een 5 liter blik. Hoe kan hij precies 1 liter water meten zonder water te knoeien?

Antwoord:

Hij vult eerst het 3 liter blik met water en schudt dat in het 5 liter blik. Daarna vult hij het 3 liter blik nog een keer en schudt dat in het 5 liter blik totdat dat vol is. Hij heeft nu nog 1 liter water in het 3 liter blik.

Vraag 3.5

Je zit in de gevangenis met Barry en Albert. Jullie zitten met zijn drieën achter elkaar en kijken recht vooruit. Jij zit voorop, dan Barry en als laatste Albert. Een bewaker heeft 3 zwarte en 2 witte hoeden. Willekeurig zet de bewaker een hoed op eenieders hoofd. Albert kan jouw hoed zien en die van Barry, Barry kan jouw hoed zien en jij ziet geen enkele hoed. Niemand weet welke kleur hoed hij draagt. De bewaker zegt: als iemand van jullie met 100% zekerheid de kleur van zijn eigen hoed kan zeggen, zonder dat iemand iets zegt, dan laat ik jullie allemaal vrij. Hij vraagt Albert om als eerste te antwoorden. Albert zegt dat er geen enkele manier is waarop hij met zekerheid een antwoord kan geven. Ook Barry kan niet met 100% zekerheid antwoord geven. Hij komt naar jou toe en jij zegt hem met 100% zekerheid de kleur van je hoed.

Vraag is: wat is de kleur van je hoed en hoe kon je dat met 100% zekerheid zeggen?

Antwoord:

Een zwarte hoed. Albert zag geen 2 witte hoeden, want ander had hij geweten dat hij een zwarte hoed had. Albert zag dus een zwarte en een witte hoed of 2 zwarte hoeden. Barry hoort het antwoord van Albert en weet dus dat Albert geen 2 witte hoeden zag. Barry kan alleen met 100% zekerheid antwoorden als degene voor hem een witte hoed draagt, zijn eigen hoed is dan zwart. Doordat Barry geen antwoord kan geven weet je dus dat je eigen hoed zwart is.

Vraag 3.6

Waar komt donderdag voor woensdag?

Antwoord:

In het woordenboek



Vraag 3.7

Een lichaam is dood gevonden op het trottoir van een flatgebouw. Gezien de positie van het lichaam is het duidelijk dat de persoon van een van de verdiepingen gesprongen is en zelfmoord gepleegd heeft.

Een detective is gebeld om naar deze zaak te kijken. Hij gaat naar de 1e verdieping, loopt de kamer binnen waaronder het lichaam ligt. Hij opent het raam en gooit een muntje op de grond. Hij gaat dan naar de 2e verdieping en herhaalt exact hetzelfde proces. Hij blijft dit herhalen totdat hij op de bovenste verdieping is. Weer beneden gekomen zegt de detective dat het geen zelfmoord is maar een moord.

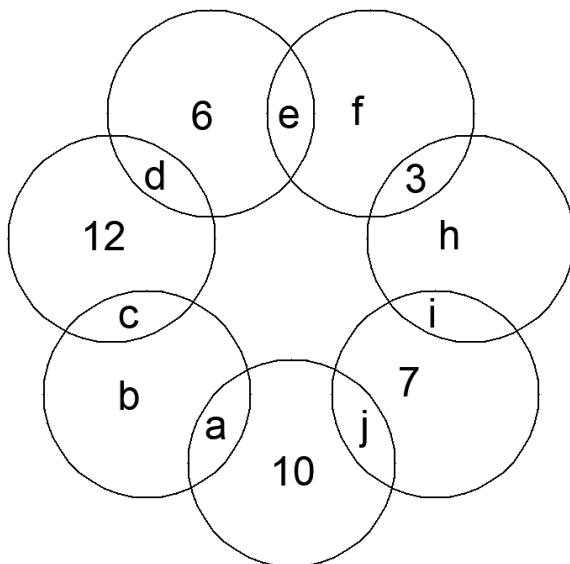
Vraag: Hoe weet de detective dat het een moord was?

Antwoord:

Geen enkel raam stond open. Als de persoon gesprongen is, wie heeft dan het raam dicht gedaan?

Vraag 3.8

Het onderstaande figuur is opgebouwd uit 7 cirkels die in elkaar grijpen. Er zijn 14 afgesloten gebieden in de figuur. Vervang de letters met nummers zodat alle nummers van 1 t/m 14 in de figuur komen te staan. Dit moet zo gebeuren dat in elke cirkel de getallen bij elkaar opgeteld 21 zijn.



Antwoord:

Circle" Puzzle (page 69). Substitute the following numbers for letters: a = 2, b = 11, c = 8, d = 1, e = 14, f = 4, h = 13, i = 5, and j = 9.

Vraag 3.9 (8 punten bij een goed antwoord)

Zoek de straatnamen uit Oeffelt. De overgebleven letters vormen de namen van 3 straten uit Oeffelt. Schrijf deze 3 namen op.

l	i	e	t	i	n	g	s	e	s	t	r	a	a	t
o	b	a	z	e	w	i	n	k	e	l	e	e	h	n
o	g	e	w	s	i	u	h	s	n	e	k	r	e	k
i	h	t	a	a	r	t	s	x	i	r	t	a	e	b
e	b	r	a	k	e	l	s	t	r	a	a	t	r	r
r	t	a	a	r	t	s	e	s	w	u	o	h	s	o
s	c	h	e	p	e	r	s	t	r	a	a	t	t	u
s	h	n	k	e	o	h	l	o	r	k	o	t	r	w
t	o	e	u	w	e	r	s	t	p	r	l	a	a	e
r	o	v	e	i	n	g	s	a	n	u	n	a	a	r
a	g	s	z	e	n	l	p	o	i	i	e	r	t	s
a	e	t	l	u	o	r	l	p	e	s	i	t	r	s
t	i	a	31	o	n	g	s	a	l	p	r	s	ij	t
i	n	k	h	o	f	k	e	s	p	u	e	s	t	r
o	d	c	h	e	i	d	e	s	k	n	d	p	j	a
o	s	e	s	t	r	a	a	a	r	t	l	r	e	a
l	f	o	h	m	a	a	r	g	e	t	e	o	s	t
t	a	a	r	t	s	s	r	e	k	a	m	d	a	r

Beenhouwersplein, Ganzenpoel, Urlingsestraat en azewinkel als restletters

4. (Oud) Oeffelt

Vraag 4.1

Welke Oeffeltenaar is afgelopen jaar onderscheiden door de KNWU, waarom en hoe heet de onderscheiding?

Antwoord:

Jan Fransen, 50 jaar werkzaam, gouden Wiel

Vraag 4.2

Welke Oeffeltse verenigingen/groepen bestaan dit jaar respectievelijk 125, 100, en 40 jaar?

Antwoord:

Fanfare, voetbalclub, tennisclub

Vraag 4.3 (2 punten per goed antwoord + 2 bonus)

Hoeveel bracht elk van de volgende kavels op tijdens de goederen- en dienstenveiling van de Zwaluw op 10 maart j.l.?

Antwoord:

Kavel	Bedrag
Reis naar Barcelona voor 2 personen	975
24 uur tv kijken met Stijn Jansen	160
13 keer een bos bloemen bij de Spar	160

Vraag 4.4

Wie maakt er dit jaar een documentaire over het jubileumjaar van vv De Zwaluw?

Antwoord:

Rick Vissers



Vraag 4.5

Toen de steenfabriek opgericht werd kocht Botermans, de eigenaar, zeven hectare grond bij de Vilt. Hoeveel moest hij daarvoor aan de gemeente Oeffelt betalen?

Antwoord:

6000 gulden

Vraag 4.6 (1 punt per goed antwoord + 2 bonus)

Aan de liedjesavond in december 2017 namen 11 groepen deel en 4 aan de play-back show. Noem zoveel mogelijk namen van de deelnemende groepen of enkelingen.

Antwoord:

Ex prinsen (en prinsessen)
De Borrelnootjes (hofkapel)
Raad van Elluf
Vrienden van de prins (vriendengroep van de prins)
Ut Vijfd
John Hutten (lindsey en harry theunissen)
WETS
NVKN
Zwaluw A1
Brakels Eng
Looierstraat
Tim Hendriks
Jos & Joop
Zwaluw dames
Follie Vrollie /volleybalclub

Vraag 4.7

Hoeveel actieve senioren leden (dus zonder rustende leden) staan er vermeld in het infoboekje Maasverslag 2018 ?

Antwoord:

Tennisvereniging Oeffelt, 94 seniorenleden



Vraag 4.8 (2 punten + 2 bonus)

Wat staat er op de volgende foto's ?



Antwoord:

Perdsbrug bij monding Raam

voormalige Rabobank

Vraag 4.9

Wat is verboden om te doen voor de Brandweerkazerne volgens het bordje tussen beide roldeuren?

Antwoord:

Voetballen parkeren verboden

Vraag 4.11

Hoeveel mannen en hoeveel vrouwen woonden er op 1 januari 1888 in Oeffelt?

Antwoord:

524 mannen en 531 vrouwen

Vraag 4.11

Welke prijs won het Gilde Salvator Mundi uit Oeffelt op zondag 3 september op het landjuweel en wat is de naam van het organiserende gilde?

Antwoord:

de Ereprijs en Groot Gaesbeeker gilde



Vraag 4.12 (2 punten per goed antwoord + 2 bonus)

Oeffelt heeft vijf eenrichtingswegen aangegeven door verkeersborden. Wat zijn de namen van deze wegen of beschrijf waar deze liggen.

Antwoord:

't Venneke
de 2 afritten bij de rotonde
Parallelweg Beugenseweg
Tiendplein
Katsestraat (of weg langs de Haven)

Vraag 4.13

Welk pand zien we hier?



Antwoord:

Veerhuis

Vraag 4.14

Van wie is dit grasveld?



Antwoord:

Rens en Willy Hendriks



Vraag 4.15

Wat is de naam van de huisarts die na Dr. Hombergh en voor Dr. Hol huisarts was in Oeffelt?

Antwoord:

de Groot

Vraag 4.16

Op de kruising van welke 2 straten ligt knooppunt 13 in Oeffelt?

Antwoord:

Viltseweg en de Haard

Vraag 4.17

Wie waren de 17 burgemeesters van de gemeente Oeffelt tussen 1811 en 1993? Hierbij ook tijdelijke loco-burgemeesters benoemen, ook als ze vaker als burgemeester gediend hebben.

Antwoord:

P. Haerkens, H. Haerkens, P. van Beckum, C.W. Geurts, P. van Beckum, H. van de Voordt, H. Geurts, J.M. Haerkens, M.A. Haerkens, J. F. Haerkens, C. Remmen, P. Nelissen, A.J.L. Voets, P. Nelissen, J.J. Stuij, Th. A. van Benthum, Th.J.M. van Casteren

Vraag 4.18

Hoeveel ballen van elke kleur hangen aan het bord 'Het Telraam'?

Antwoord:

Groen 6, Geel 6, Rood 6

Vraag 4.19

In welk jaar is sporthal de MeerKamp in Oeffelt geopend ?

Antwoord:

Nooit, het is sporthal de MeerCamp



Vraag 4.20

Wie ontbreken er op deze elftalfoto ten opzichte van de originele foto?



Antwoord:

Jan van Gelder, Joep Kusters, Cliff van Sambeek

Vraag 4.21 (2 punten per goed antwoord + 2 bonus)

- a) Wie uit Oeffelt werd er dit jaar geëerd, en b) wat kreeg deze persoon, voor een daadkrachtig optreden eind 2016?

Antwoord:

a	John Jans
b	Legpenning en het erekoord

Vraag 4.22

Na hoeveel schoten werd Jan Aldenhoven als nieuwe keizer gekroond bij het Gilde?

Antwoord:

130 schoten



Vraag 4.23

Op welke datum gaf fanfare Vriendenkring uit Oeffelt haar eerste concert?

Antwoord:

5 september 1894

Vraag 4.24

In juni 1896 organiseerde de fanfare Vriendenkring voor de eerste keer een Damesconcert, er zouden er nog vele volgen. Ter ere van wie en waarvoor organiseerde de fanfare dit concert in 1896?

Antwoord:

Voor een aantal dames uit Oeffelt die een collecte hielden voor de aanschaf van een vaandel. De collecte bracht 200 gulden op waarvoor een vaandel gekocht werd.

Vraag 4.25

Wie staat er op onderstaande foto (voor- en achternaam)?



Antwoord:

Cor Essing



Vraag 4.26

Hoeveel officieel erkende zonen en dochters hebben de leden van de organisatiecommissie bij elkaar opgeteld?

Antwoord:

5 zonen en 9 dochters (of 14 als totaal is ook goed)

Vraag 4.27

Hoe heten de muzikale tweelingzussen die afgelopen jaar een belangrijke muziekprijs wonnen? Hoe heette de muziekprijs en waarom wonnen zij deze?

Antwoord:

Judith en Tineke Steenbrink, Edison (klassiek), Cd "Carrousel"

Vraag 4.28

Wat voor een soort winkel zat vroeger in dit pand?



Antwoord:

Een snoepwinkel en/of tabakswinkel (sigaren/sigarettenwinkel)

Vraag 4.29

Wie was voorzitter van de Zwaluw in de periode 1932-1962?

Antwoord:

Arnold Weerepas



Vraag 4.30

Dit ziende, wat bevindt zich ong. 30 meter achter ons?



Antwoord:

Kerkhof

Vraag 4.31

In welke straat vinden we deze zwerfkeien?



Antwoord:

Raamhof

Vraag 4.32

In welke periode (van-tot jaartal) speelde de Zwaluw uit Oeffelt haar wedstrijden op "De Berg"?

Antwoord:

Van 1918 – 1956



Vraag 4.33

In welke straat ligt deze voortuin?



Antwoord:

Schoolstraat

Vraag 4.34

Wat is de naam van de burgemeester op onderstaande foto?



Antwoord:

Burgemeester Geurts

Vraag 4.35

Wie en op welke datum stond iemand uit Oeffelt in de krant in het teken van het "vasten"?

Antwoord:

Tim Hendriks, 15-02-2018



Vraag 4.36

Wat waren de thema's van de stropoppen in 2009, 2010, 2012 en 2014 ?

Antwoord:

Efteling, Asterix en Obelix, Tijd, Fabeltjeskrant

Vraag 4.37

Zie het gebouw op deze foto. Wat is de naam van een gelijknamig object in Amsterdam?



Antwoord:

Hotel Krasnapolsky

Vraag 4.38

De N264 die door Oeffelt heen loopt is recentelijk vernieuwd. Wat is de naam van de aannemer die deze klus heeft uitgevoerd?

Antwoord:

BAM

Vraag 4.39

Wat is de afkorting zoals gebruikt door ProRail/NS voor het station Kruispunt Beugen?

Antwoord:

Bgk



5. Opdrachten

Het vermelde puntenaantal per opdracht kan behaald worden indien de volledige opdracht juist afgerond wordt. Let op: na de genoemde tijd in de opdracht wordt er niemand meer binnengelaten op de locatie.

Opdracht 5.1 (per goede foto 5 punten)

Maak een foto **met daarop een van de teamleden** bij elk van de volgende hekwerken in het Maasheggebied en kort daarbuiten. De hekwerken zijn: 't Veerhuis, Koude Oord, Klokkekamp, De Rijtjes. Zet de foto's op de USB-stick.

Als voorbeeld het weidehek van de Oeffelter Meent:



Opdracht 5.2 (max. 100 punten)

Zorg dat er 1 persoon om 20.30 uur aanwezig is in de brandweerkazerne. Deze persoon dient gekleed te zijn in regenpak en laarzen. Geen regenpak en/of laarzen betekent **10 punten in mindering**.

Opdracht 5.3 (10 punten)

Tel alle kilometers van de richtingaanwijzers op de Oeffeltse rotonde op. Hoeveel km is dat?

Antwoord:

210



Opdracht 5.4 (5 punten per goed antwoord)

Deze 5 auto's staan ergens geparkeerd in de bebouwde kom van Oeffelt. Vermeld straat en huisnummer waar de auto geparkeerd staat

Kenteken	Straat	Huisnr.
47-XF-HP	Europelein	6
3-TXL-45	Tiendplein	17-18
93-PFL-3	Beenhouwersplein	3-4
78-GNL-8	Sporthal/Looi	5b
7-VLL-09	Peuterette/Kerkstraat Zuid	24

Opdracht 5.5 (max. 50 punten)

Hey huishouden van Jan Steen speelde zich af in de 17^e eeuw. In welke tijd jullie tafereel zich afspeelt mag je zelf bepalen. Zet de foto op de USB stick.



Wat er **minimaal** op de foto moet staan:

- | | | |
|----------------------|-----------------|---------------------|
| Tafel met tafelkleed | 2 kinderen | Open raam |
| 2 muzikanten | Karaf en glazen | 1 kalende man |
| 1 hond | Kaarsen | Kast op achtergrond |
| 1 vrouw | Vaas bloemen | Fruit |

Ontbreekt 1 van deze zaken worden er geen punten toegekend!



Opdracht 5.6 (5 punten per foto)

Geef van onderstaande brievenbus het adres (straatnaam en nummer) waar deze staat/hangt. Kijk goed op de details van desbetreffende brievenbus en omgeving.

	
Antw: Katsestraat 10	Antw: Hogehoek 17
	
Antw: Schoolstraat 20	Antw; Kerkstraat-Zuid 15
	
Antw: Scheerdersstraat 9	Antw: Eurostraat 20





Antw: Hogehoek 4



Antw: Willem Alexanderstraat 27



Antw: Katsestraat 47



Antw: Scheerdersstraat 5

Opdracht 5.7 (20 punten)

Ga vanuit de verst vastliggende schaduwpunt van de hoogste roede 23,5 meter onder 43 graden, zoek de data en maak er een foto van.

Antwoord: **Monument bij de molen**

Zet deze foto op de USB-stick.



6. Sport

Vraag 6.1

In 2017 werd in de MLB al voor het einde van de competitie een nieuw recordaantal homeruns geslagen. Hoeveel toeschouwers waren bij deze wedstrijd aanwezig?

Antwoord:

33.554

Vraag 6.2

Wat is de naam van de eredivisiespeler die ergens in de laatste 25 jaar een eigen goal maakte tijdens Sinterklaas?

Antwoord:

Ricky van Haaren

Vraag 6.3

Hoeveel keepers hebben in het seizoen 2017/2018 bij Plymouth Argyle onder de lat gestaan?

Antwoord:

7

Vraag 6.4

Napoli sloot het seizoen 2017/2018 af met een voorlopig 1^e plaats in de lopende competitie. Een getal maakt deze wedstrijd uniek. Wat is het bijzondere dat in deze laatste wedstrijd van 2017 gebeurde en waarbij dit getal de verbindende factor is?

Antwoord:

Hamsik nr 17 maakte zijn 17e doelpunt in de 17e minuut, zijn 117e doelpunt voor de club in het laatste duel van 2017.



Vraag 6.5

Welke speler speelde ooit een WK finale met een gebroken rug?

Antwoord:

Bobby George

Vraag 6.6

Wat is het tegenstrijdige bij het ongeval van BMX'er Jelle van Gorkom in Papendal?

Antwoord:

Werd veroorzaakt door een veiligheidsketting

Vraag 6.7

Welke 27 jarige oud-wereldkampioene van 2014 zette een punt achter haar carrière om voorrang te geven aan haar studie geneeskunde?

Antwoord:

Lisa Wörner of Joyce Sombroek

Vraag 6.8

Dhr. Frank Coenen staat hier op de foto met "zijn" voetbalshirt. Wat is de volledige naam van de voetballer van wie het shirt is en bij welke club speelt hij?



Antwoord:

Fábio Coentrão Real Madrid/Sporting Lissabon



Vraag 6.9

Welke Oeffeltenaar won afgelopen jaar voor de 3^e keer Rund um Koln?

Antwoord:

Philip Heijnen

Vraag 6.10

Op 2 februari 2004 werd Roger Federer voor de eerste keer de nr. 1 van de wereld. Wat was zijn ranking op 17 februari 2018 en wat was daar bijzonder aan?

Antwoord:

De oudste nr. 1 van de wereld

Vraag 6.11

Wat heeft Henriët van der Meer op sportief gebied samen met haar zoon gemeen?

Antwoord:

Beide zijn Nederlands kampioen allround schaatsen (geweest)

Vraag 6.12

Welke scheidsrechter werd door de FFF op non-actief gezet, waarom en wat was zijn straf?

Antwoord:

Tony Chapron, natrappen van Diego Carlos. 3 maanden niet fluiten later in beroep verhoogd tot 6 maanden

Vraag 6.13

Wie is de op een na jongste vrouw die in een derde ronde van een grand slam stond?

Antwoord:

Mirjana Lucic-Baroni of Marta Kostyuk



Vraag 6.14

Welke racelegende was een zoon van een operazanger en introduceerde de champagnedouche?

Antwoord:

Dan Gurney

Vraag 6.15

Tijdens de Dakar rally schreef een Nederlander historie door een etappe te winnen bij de auto's, wat was het merk en type van deze auto?

Antwoord:

Toyota Hilux Evo

Vraag 6.16

Wat voor beroep had de vader van de coureur die zowel Les Mans, een F1 wedstrijd en een Nascar race op zijn conto schreef?

Antwoord:

Operazanger

Vraag 6.17

Welke Nederlander won in de Bundesliga in 4 beurten en zette hiermee een nieuw wereldrecord partijmoyenne neer, en wat was dat record?

Antwoord:

Dick Jaspers, moyennerecord 10,000

Vraag 6.18

Welke prestatie erkende de Atletiekunie eerst niet waarbij het Nederlands record met 29 cm werd verbroken? Vraag had 19 cm moeten zijn.

Antwoord:

Speerwerpen, Thomas van Ophem



Vraag 6.19 (2 punten per goed antwoord + 2 bonus)

a) Met welke wedstrijd werd het record verbroken welke op naam stond van Alex Ferguson, die deze hierop kwijt raakte, als langstzittende coach bij 1 club en b) aan wie raakte hij dit record kwijt?

Antwoord:

A	West Bromwich Albion – Arsenal
B	Arsene Wenger

Vraag 6.20 (niet meegenomen in de puntentelling)

Elke winter doen er een paar plaatsen mee in de strijd om het binnenhalen van de eerste marathon op natuurijs. Zo ook dit jaar, tussen welke plaatsen ging het op het laatst en waardoor viel de keuze uiteindelijk op de winnende plaats?

Antwoord:

Vraag 6.21

In Eindhoven werd het wereldrecord “bommetjes tegelijk” verbroken, hoeveel personen waren hierbij betrokken?

Antwoord:

281 personen

Vraag 6.22

In de voorlaatste cross won Mathieu van der Poel voor de 31^e keer dit seizoen, wat betekende dat dit een nieuw record werd. Vanaf welke startpositie vertrok Mathieu in deze voorlaatste cross?

Antwoord:

Vanaf de laatste plaats (of 24^e plaats is ook goed)



7. AARDRIJKSKUNDE

Vraag 7.1 (2 punten per goed antwoord + 2 bonus)

Onderstaand zie je foto's van een aantal bekende bruggen. Wat is de naam van iedere brug?



Brooklyn bridge



eshima ohashi



Tacoma narrows bridge



rialto bridge



Forth bridge



Waalbrug



Vraag 7.2

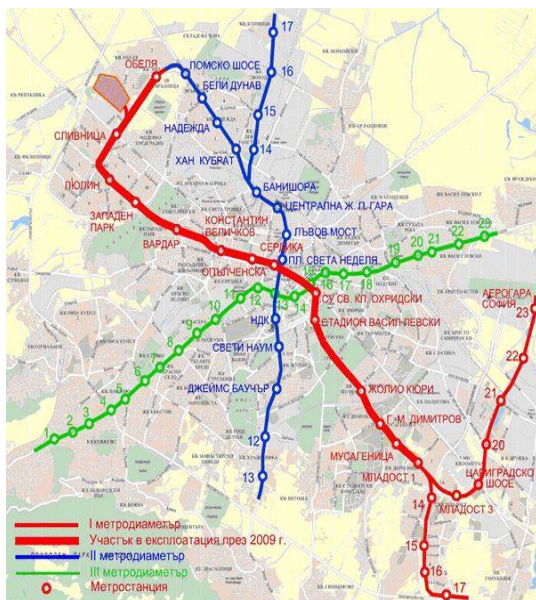
Noem 14 landen die fysiek (dus niet gescheiden door water) grenzen aan Rusland?

Antwoord:

Azerbeidzjan, Wit-Rusland, China, Estland, Finland, Georgië, Kazachstan, Letland, Litouwen, Mongolië, Noord-Korea, Noorwegen, Polen, Oekraïne. (waarbij Litouwen en Polen grenzen aan Kaliningrad, de exclave van Rusland in de EU)

Vraag 7.3 (2 punten per goed antwoord + 2 bonus)

Van welke steden zijn deze metrokaarten?



Sofia



Taiwan of Taipei





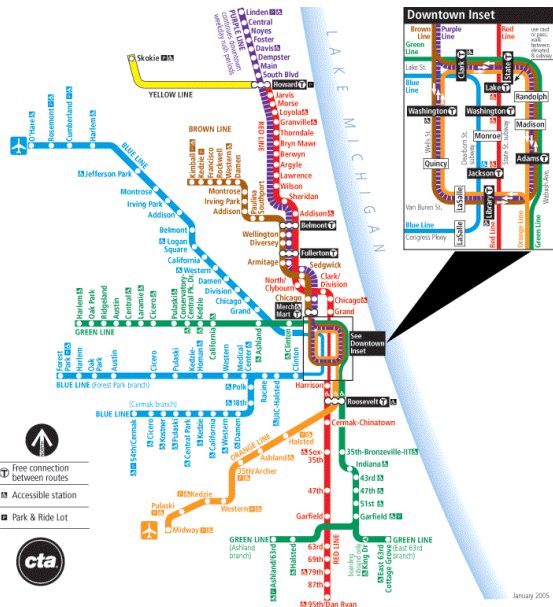
Londen



Madrid



Montreal



Chicago

Vraag 7.4

Wat is de hoogste Nederlandse berg die het dichtst bij het centrale punt van het rijksdriehoekstelsel ligt?

Antwoord:

Amerongse berg



Vraag 7.5 (2 punten per goed antwoord + 2 bonus)

Wat is de naam van deze kerk en de hoogte van de toren in meters (in 2 decimalen)



Munster van Ulm 161.53 m



Stephansdom Wenen 136.44 m



St-Jacobkirche Hamburg 125 m



OLV kathedraal Antwerpen 122.3m



Vraag 7.6

Wat is de geografische overeenkomst tussen Baku en Schiphol?

Antwoord:

Beide liggen onder zeeniveau

Vraag 7.7

Welke berg bedoelen we met : "Deze stof toetert" ?

Antwoord:

Matterhorn

Vraag 7.7

In welke stad bevind ik me en voor welk openbaar gebouw sta ik?



Antwoord:

Luzern en voor het (bus)station



8. Muziek

Vraag 8.1 (2 punten per goed antwoord + 2 bonus)

Zanger Waylon zong bij de Wereld draait door (DWDD) enkele nummers die in aanmerking kwamen voor het songfestival in 2018.

- a) Hoeveel nummers waren dat, noem de titels en welk lied heeft het uiteindelijk gewonnen.
b) 1 liedje is niet door hem geschreven, welk lied is dat?

Aantal Nummers: 5
Titels:
Back Together
Outlaw in `em
The World Can Wait
That's How She Goes
Thanks But No Thanks
Winnend liedje: Outlaw in `em

b) | That's How She Goes

Vraag 8.2

Wat staat er in bloei in een liedje van Urbanus – Poesje Stoei ?

Antwoord:

Selder

Vraag 8.3

Welke Amerikaanse rockband trad in de Bataclan in Parijs op toen IS er een aanslag pleegde?

Antwoord:

Eagles of Death Metal



Vraag 8.4

Waarom mocht deze rockband niet als eerste weer optreden in de Bataclan bij de heropening?

Antwoord:

Uitspraken van de zanger van de band waarin hij suggereerde dat islamitische beveiligers betrokken waren bij de aanslag zijn de Bataclan-directie in het verkeerde keelgat geschoten

Vraag 8.5

Wie trad er dan wel weer als eerste op in de Bataclan na de aanslag?

Antwoord:

Sting

Vraag 8.6 (2 punten per goed antwoord + 2 bonus)

Muziek kan een film nog spannender maken. Luister op de site van de durpskwis naar de fragmenten en vermeld uit welke film de muziek komt, de naam van het nummer en wie de componist/artiest is.

Naam Film	Naam nummer	Componist/Artiest
Lord of the Rings	the battle Of The Pelennor Fields	Howard Shore
The Lion King	King of Pride Rock	Hans Zimmer
Schindler's List	Schindler's List Theme	John Williams
The Good, the Bad and the Ugly	The Good, the Bad and the Ugly Theme Il buono, Il brutto, Il cattivo	Ennio Morricone
The Last Of The Mohicans	The Last Of The Mohicans Theme	Trevor Jones en Randy Edelman
Dances with Wolves	Dances with Wolves theme	John Barry
Titanic	Never An Absolution	James Horner
Up (Disney)	Up/Married life	Michael Giacchino
Jaws	Jaws Theme	John Williams



Vraag 8.7

Tussen welke 2 liedjes in (direct er boven en direct eronder) stond Theo Diepenbrock met zijn liedje Oh Darling in 1978 in de top 40 bij zijn hoogste notering?

Antwoord:

Plaats 5 in week 31 (5 augustus 1978) tussen 4. Michael Zager Band - Let's All Chant en 6. The Rolling Stones - Miss You

plaats 5 in week 32 (12 augustus 1978) tussen 4. Michael Zager Band - Let's All Chant en 6. The Abdul Hassan Orchestra - Arabian Affair

Vraag 8.8 (2 punten per goed antwoord + 2 bonus)

Van veel hits is het niet bekend dat dit vertalingen zijn van muzieknummers uit het buitenland. Geef van onderstaande nummers het originele nummer, wie dit zong en uit welk jaar.

1. Frank Sinatra – My Way
Antw: Claude Francois – Comme d’Habitude (1967)
2. VOF de Kunst – 1 kopje koffie
Antw: Roberto carlos – Verde E Amarelo (1985)
3. Blof – Zoutelande
Antw: Boss eft Anna Loos – Frankfurt Oder (2006)
4. Ronnie Flex ft Maan – Blijf bij mij
Antw: Nelly ft Kelly Rowland – Dilemma (2002)
5. Marco Borsato – Meeste dromen zijn bedrog
Antw: Riccardo Fogli – Storie Di Tutti Giorni (1982)
6. Andre Hazes – Zij gelooft in mij
Antw: Steve Gibb – She believes in me (1978) (NIET Kenny Rogers, was later)
7. Jeroen van de Boom – Jij bent zo
Antw: David Bisbal – Silencio (2006)
8. Rob de Nijs – Ritme van de regen
Antw: The Cascades – Rhythm of the Rain (1962)
9. Marco Borsato – Margherita
Antw: Riccardo Cocciante – Margherita (1976)



Vraag 8.9

Bij wie of welke groep hoort deze afbeelding, wat zijn de namen van deze persoon of personen en wat is voor hem/hen bijzonder aan het jaar 2018?



Antwoord:

Two Stools, Harry Hendriks en Rob Meulepas, 10 jarig jubileum

Vraag 8.10 (2 punten per goed antwoord + 2 bonus)

Iedereen kent wel de compact disc (cd).

- Welke 2 bedrijven zijn verantwoordelijk voor de ontwikkeling van de cd?
- Wanneer werd de cd voor het eerst publiekelijk gedemonstreerd en onder welke code naam?
- In welk jaar kwamen de eerste cd spelers op de markt?
- Wat waren de type nummers van deze twee cd spelers?

Antwoord:

a)	Philips en Sony
b)	Op 8 maart 1979, codenaam pinkeltje
c)	1982
d)	Philips komt met de CD100 en Sony met de CDP-101

Vraag 8.11

Welk muziekinstrument kun je bespelen zonder het aan te raken, door wie werd het uitgevonden en in welk jaar?

Antwoord:

Theremin, Leon Theremin in 1919 (of de laserharp)









9. Jeugd

Vraag 9.1 (1 punt voor elk goed antwoord)

Iedereen kent wel de Suske en Wiske stripboeken.

Geef van onderstaand voorblad van het stripboek

- de titel
- het nummer uit de nummerreeks
- jaar van eerste publicatie

		
<p>A. De Heldenmaker B. 338 C. 2017</p>	<p>A. De Schone Slaper B. 85 C. 1968</p>	<p>A. De Slimme Slapjanus B. 238 C. 1993</p>
		
<p>A. De Hippe Heksen B. 195 C. 1983</p>	<p>A. De Nare Varaan B. 153 C. 1975</p>	<p>A. De Curieuze Neuzen B. 296 C. 2007</p>



Vraag 9.2 (2 punten per goed antwoord + 2 bonus)

Een aantal vragen over een paar van de vele Walt Disney films die in de loop der tijden zijn uitgebracht.

Welke kleur jurk draagt Belle als ze danst met het Beest?

Antwoord: Geel

Wat voor een soort vogel is Flit?

Antwoord: Kolibrie

Welke tekenfilm van Disney is het laatst uitgebracht op videoband?

Antwoord: Bambi 2

Hoe heet het paleis dat Kuzco wilde bouwen?

Antwoord: Kuczotopia

Hoe heet de hond van prins Eric?

Antwoord: Max

Vraag 9.3

In 1916 begon Ole Kirk Christiansen een houtbewerkingszaakje. Vanaf 1932 ging hij zich ook toeleggen op houten speelgoed en kwam de naam LEGO in gebruik. De naam "LEGO" is afgeleid van de Deense woorden "LEg GOdt" (speel goed).

Vraag: LEGO is niet de uitvinder van de befaamde bouwblokjes. Het ontwerp van LEGO is overduidelijk overgenomen. Wat is de naam van de bouwblok waarop Lego gebaseerd is?

Antwoord:

Kiddicraft Self-Locking Building Brick



Vraag 9.4 (2 punten per goed antwoord + 2 bonus)

Hieronder zie je enkele lego voertuigen, uit hoeveel blokjes en steentjes bestaan deze?



1636

686



1056

19

Vraag 9.5 (2 punten per goed antwoord + 2 bonus)

Elk jaar worden er weer nieuwe kinderboeken uitgebracht. Op de volgende pagina zie je afbeeldingen van de achterkant van enkele kinderboeken. Op elke achterkant is een woord in rood doorgestreept. Welk woord is dat?



Als Trubbels mensenvrienden naar de grote stad gaan, smokkelt Trubbel zichzelf mee. Maar aangekomen in Bakstein verdwaalt hij al snel. En dan blijkt het in de stad minstens zo gevaarlijk als in de bossen! Want onder de straten wonen allerlei griezels: het monster onder het bed, rioolheksen, en zelfs een horror clown. Allemaal zitten ze achter Trubbel aan! Gelukkig ontmoet hij ook nieuwe vrienden in de stad. Met de hulp van een [redacted] een tinkabouter en de wijze Grootmagister gaat Trubbel op zoek naar zijn mensbeesten. Maar de griezels van Bakstein zitten hem op de hielen...

Met illustraties van Kees de Boer



ploegsma
kinder- & jeugdboeken



Truis

ONTDEK JILLS TEKENTRUCS EN CREËER
JE EIGEN TEKENSTIJL!

Tekenen met Jill



Met haar eerste tekenboek neemt creatief multi-talent Jill Schriber je mee in de fantastische wereld van het tekenen!

Leer tekenen zoals Jill met heldere stap-voor-stap uitleg, slimme teken-tips en handige trucs. Van de coolste partijjurkjes, de lekkerste slagroomtaartjes, BFF-kertintjes tot echte Jill-mesjes met [redacted]

Met dit tekenboek laat Jill zien dat iedereen kan tekenen. Een must have voor iedereen die van tekenen houdt.

Meer over Jill?
Check zapp.nl/jill



mediamarkt



Karakter Uitgevers B.V.



karakteruitgevers.nl

Droomhaar

PEUTER BIJBEL

Geschreven door Juliet David
Geïllustreerd door Helen Prole

De Peuterbijbel laat de allerkleinsten op een leuke manier kennismaken met de Bijbelverhalen.

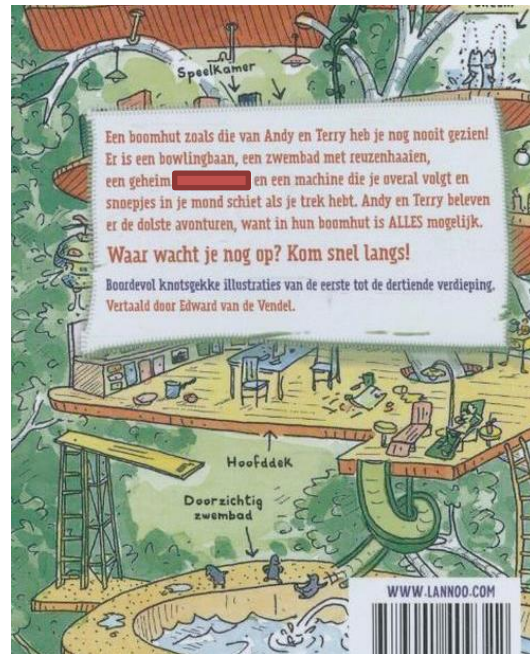
In eenvoudige, korte zinnen vertelt de Peuterbijbel ruim 70 verhalen uit het Oude en Nieuwe Testament. Door de [redacted] duidelijke illustraties zullen kinderen dit boek keer op keer willen bekijken!

Ark Boeken



9 789033 830037

Vrolijke



Laboratorium



WWW.DURPSKWIS.NL

Vraag 9.6 (6 punten bij een goed antwoord)

Wat zie je op de tekening nadat je die ingekleurd hebt?



12	12	12	12	12	12	12	10	12	10	10	12	12	10	3	3	12	10	12	12	12	12	7	7	12	12	2	7			
7	7	12	4	3	2	12	12	12	12	12	10	10	3	3	4	12	10	10	10	10	12	12	4	3	7	2				
7	12	4	3	7	7	7	12	12	12	12	12	3	4	12	10	10	10	10	10	10	12	4	3	3	0	12				
0	12	3	3	0	0	12	4	7	2	2	12	12	12	10	12	10	10	10	10	10	12	3	3	2	2	12				
2	12	3	2	2	12	4	3	3	7	2	2	7	7	12	12	10	12	10	10	10	10	10	12	12	12	10				
2	2	2	2	2	12	3	3	3	2	7	7	0	12	3	3	12	12	12	10	10	10	10	10	10	12	10	10			
0	0	2	2	2	12	3	3	0	2	2	2	12	3	3	7	2	12	12	10	12	10	10	10	10	10	10	12			
7	7	0	0	2	7	12	2	2	12	12	12	12	12	12	12	12	12	12	10	10	10	10	10	10	10	12	4			
2	7	7	7	7	0	2	2	12	12	6	6	6	6	6	6	6	6	6	6	6	12	12	12	10	10	10	12	4	3	
2	2	0	0	0	2	2	12	12	12	12	6	6	6	6	6	6	6	6	6	6	12	12	10	10	12	3	3	3		
2	2	2	2	2	2	12	12	11	12	12	12	6	6	6	6	6	6	6	6	6	12	12	10	12	3	3	10			
2	2	2	2	2	12	12	11	12	1	1	12	12	6	6	6	6	12	12	12	12	6	12	12	10	10	10	10			
2	2	2	2	12	12	11	12	1	1	1	1	1	1	1	1	12	12	6	12	12	12	0	12	5	5	6	12	12	10	10
2	2	12	12	11	12	1	1	1	1	1	1	1	1	1	1	12	12	0	12	12	12	12	6	6	6	12	12	10		
2	12	12	11	12	1	1	1	1	8	8	8	1	1	12	0	0	11	11	11	11	11	11	2	12	6	6	6	6	12	10
12	12	11	12	12	1	1	1	8	12	12	12	8	12	11	11	11	11	11	11	2	12	6	6	12	12	10	10			
12	12	12	12	12	1	1	8	12	12	12	12	12	11	11	11	11	12	11	11	2	12	12	12	12	10	10	10			
2	2	2	2	12	1	1	8	12	11	0	12	11	11	11	11	11	12	11	2	2	12	9	9	12	10	10	10			
2	2	2	2	12	1	1	8	5	12	11	0	11	11	11	11	12	11	11	2	12	9	9	9	12	10	10	10			
2	2	2	2	12	1	1	1	8	11	11	0	11	11	11	11	12	11	2	2	12	9	9	9	12	10	10	10			
2	2	2	2	12	1	1	1	1	8	8	12	11	11	11	12	11	11	2	12	9	9	9	9	12	12	12	10			
2	2	2	2	12	1	1	1	1	1	1	1	1	12	11	12	12	11	2	2	12	9	9	9	9	12	3	3	12		
2	2	2	2	12	1	1	1	12	12	12	12	12	12	11	12	2	2	12	9	9	9	9	9	12	12	3	3			
2	2	2	2	12	1	1	1	8	8	8	8	12	0	11	11	12	12	9	9	9	9	9	9	12	12	4	3			
2	2	2	2	12	1	1	1	1	1	1	1	1	12	0	11	11	12	12	9	9	9	9	9	9	12	10	10	4		
2	2	2	2	12	1	1	1	1	1	1	1	1	12	0	11	12	1	12	9	9	9	9	9	9	12	10	10	10		
2	2	2	2	12	1	1	1	1	1	1	1	12	12	0	11	12	1	12	9	9	9	9	12	12	12	10	10	10		
2	2	2	2	12	12	12	12	12	12	12	12	12	0	11	11	12	12	12	12	12	12	12	12	10	10	10	10	10		
2	2	2	2	2	2	2	2	2	2	2	2	12	0	11	11	12	2	2	2	2	12	12	10	10	10	10	10	10		
2	2	2	2	2	2	2	2	2	2	2	2	2	12	11	11	12	2	2	2	2	12	12	12	10	10	10	10	10		
0	2	2	2	2	2	2	2	2	2	2	2	2	12	12	2	2	2	2	0	12	10	12	10	10	10	10	10			
3	3	2	2	0	3	2	2	3	2	2	2	3	2	2	2	2	0	3	12	10	12	10	12	10	10	10	10			
3	2	3	0	5	0	3	2	3	0	3	3	3	2	3	3	0	5	12	12	12	10	12	12	10	10	10	10			
3	0	3	3	0	3	3	3	0	5	0	3	3	3	0	3	3	12	12	10	12	12	10	12	12	10	10	10			
0	5	0	3	3	3	0	3	3	0	3	3	3	0	5	12	12	12	12	10	12	12	10	12	12	10	10	10			

Antwoord: Vogel met vogelhuisje



10. Sponsors

Vraag 10.1 (niet meegenomen in de puntentelling)

Wat is de officiële naam van het bedrijf van onderstaande sponsors?

	
Autoservice VDB	Multifeed B.V.
	
CP Tuinen	Van Berkel Deuren
	
Meander Grondverwerving en advies	Aksent Opvang en Ondersteuning

	
<p>Van Elst St. Agatha B.V./van Elst Containerverhuur</p>	<p>Excel Music Instruments v.o.f.</p>
	
<p>De Prinsensteek</p>	<p>Int. Transportbedrijf Nillezen BV</p>
	
<p>Bouwbedrijf Kerstens v.o.f.</p>	<p>Kersten Assurantien</p>
	
<p>Hoveniersbedrijf F. Derks</p>	<p>Guesthouse de Heide/ VOF Gordon – van Bokhoven</p>





Loonbedrijf Gebr. Van Gelder



Supermarkt H&P Siebengewald BV



Autobedrijf Jos Bongers



Peter Graat Tuinontwerp en - advies



(Handelsonderneming) van Keijsteren B.V.



Vd Berg Kappersbenodigdheden / Hairmix Oeffelt



Spar Boere



Gebr. Berbers pluimvee import en export



	
<p>South-East Motorcycles</p>	<p>Wilmar Meubelen & Verlichting</p>
	
<p>Makelaardij Twan Poels Cuijk</p>	<p>Het Veerhuis Oeffelt</p>
	
<p>Zet Es Em Koeriers en Transport</p>	

